

# Μουσικές Αξίες (Διάρκειες)

## Notenwerte (Notendauer)

Δημήτρης Θεολογίτης  
Dimitris Theologitis

-Πόσα μισά και πόσα τέταρτα χωράνε στην αριστερή νότα;

Ζωγράφισέ τα!

-Wie viele Halbe-/Viertelnoten passen in der linke Note?




Schreibe sie!

Μισά:

Halbe Noten:

Τέταρτα:

Viertelnoten:

	=			
	=			
	=			

-Ονόμασε τις αξίες και γράψε πόσους χρόνους διαρκούν.


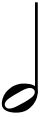
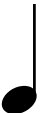
-Benenne die Notenwerte und schreibe wie viele Schläge sie dauern.

Όνομα:

Name:

Διάρκεια:

Dauer:

	=	=
	=	=
	=	=

