

Η σύζευξη και η στιγμή διαρκείας Der Haltebogen und die Punktierung

Ασκήσεις
Übungen

Δημήτρης Θεολογίτης
Dimitris Theologitis

1) Η σύζευξη διαρκείας: 1) Der Haltebogen:

- Πόσους χρόνους (συνολικά) διαρκούν οι παρακάτω νότες;
- Wie viele Schläge (insgesamt) dauern die folgende Noten?



- Γράψε την σωστή αξία, ώστε οι νότες να διαρκούν τον σωστό αριθμό χρόνων:
- Notiere den richtigen Wert, so dass die Noten die richtige Schlagzahl dauern:

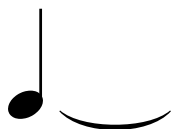
= 8 χρόνους / Schläge

= 3 χρόνους / Schläge




= 5 χρόνους / Schläge

= 8 χρόνους / Schläge



2) Η στιγμή διαρκείας:
2) Die Punktierung:


-Πόσους χρόνους διαρκούν οι παρακάτω παρεστιγμένες νότες/παύσεις;
-Wie viele Schläge lang dauern die punktierte Noten/Pausen?




χρόνους
Schläge




χρόνους
Schläge




χρόνους
Schläge



χρόνους
Schläge



χρόνους
Schläge

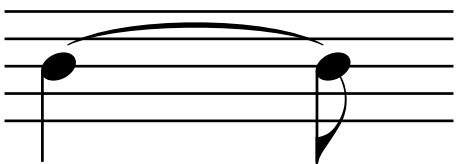



χρόνους
Schläge

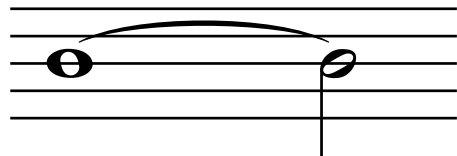

-Γράψε τις παρακάτω νότες/παύσεις ως ισάξιες παρεστιγμένες νότες/παύσεις;
-Notiere die Noten/Pausen als punktierte Noten/Pausen:





=




=











=



=



Η σύζευξη και η στιγμή διαρκείας
Der Haltebogen und die Punktierung

	=	
	=	
	=	
	=	

-Ένωσε τις ισάξιες νότες ή παύσεις:
-Verbinde die gleichwertigen Noten, oder Pausen:

